

**N O V É T E S T O V É O T Á Z K Y ,
K T E R É V S T O U P I L Y V P L A T N O S T
V P R Ů B Ě H U R O K U 2 0 2 4**

Znalost dopravních značek, signálů a značení

s. 2 (otázka č. 24030008) – s. 5 (otázka č. 24070033)

Znalost pravidel provozu na pozemních komunikacích

s. 5 (otázka č. 24070017) – s. 14 (otázka č. 24030003)

Schopnost řešení dopravních situací

s. 14 (otázka č. 24070001) – s. 22 (otázka č. 24030045)

Znalost zásad bezpečné jízdy a ovládní vozidla

s. 22 (otázka č. 24030001) – s. 24 (otázka č. 24070024)

Znalost předpisů o podmínkách provozu vozidel na pozemních komunikacích

s. 24 (otázka č. 24030002)

Znalost předpisů souvisejících s provozem na pozemních komunikacích

s. 25 (otázka č. 24030006) – s. 26 (otázka č. 24030017)

24030008 Vyberte správný význam vyobrazeného dopravního značení:

- a) Ve vzdálenosti 1500 m (za vyobrazenou dopravní značkou) končí úsek zákazu vjezdu všech motorových vozidel v obou směrech.
- b) Zákaz vjezdu všech vozidel v obou směrech. Úsek je dlouhý 1500 m.
- c) Ve vzdálenosti 1500 m (za vyobrazenou dopravní značkou) následuje zákaz vjezdu všech vozidel v obou směrech.



24030022 Tato dopravní značka označuje oblast:

- a) Kde platí pravidla silničního provozu pro provoz v obytné zóně.
- b) Kde platí pravidla silničního provozu pro provoz ve sdílené zóně.
- c) Kde platí pravidla silničního provozu pro provoz v pěší zóně.



24030023 Jak se musí zachovat řidič v úseku za vyobrazenou dopravní značkou?

- a) Je povinen dodržovat pravidla silničního provozu platná pro jízdu ve sdílené zóně.
- b) Musí dodržovat pravidla silničního provozu platná pro pohyb v pěší zóně.
- c) Musí dodržovat pouze obecná pravidla silničního provozu.



24030024 Co vyznačuje vyobrazená dopravní značka?

- a) Konec sdílené zóny.
- b) Konec obytné zóny.
- c) Konec pěší zóny.



24030025 Jaká pravidla silničního provozu musíte dodržovat mimo zónu označenou vyobrazenou dopravní značkou?

- a) Musím dále dodržovat ustanovení platná pro jízdu ve sdílené zóně.
- b) Nemusím již dodržovat pravidla silničního provozu pro jízdu ve sdílené zóně.
- c) Platí ustanovení pro jízdu mimo obec.



24030026 Co vyznačuje vyobrazená dopravní značka?

- a) Parkoviště, které je určeno pro zastavení vozidel za účelem vystoupení přepravovaných dětí před školou.
- b) Parkoviště, které je určeno pro parkování vozidel, jejichž řidič pokračuje v jízdě veřejnou dopravou.
- c) Parkoviště, které je určeno pro parkování vozidel, jejichž řidič odtud bezprostředně pokračuje v jízdě jako cestující v jiném vozidle v rámci spolujízdy.



24030008 c), 24030022 b), 24030023 a), 24030024 a), 24030025 b), 24030026 c)

24030027 Tato dopravní značka:

- a) Ve spojení s příslušnou vodorovnou dopravní značkou „Bezpečný odstup“ informuje o bezpečném odstupu mezi jedoucimi vozidly.
- b) Stanovuje řidiči dodržet rozestup min. 200 m za vpředu jedoucím vozidlem.
- c) Informuje řidiče hodlajícího podélně zaparkovat vozidlo o nutnosti dodržet vyznačený rozestup mezi vozidly.



24030028 Jaký je význam vyobrazené dopravní značky?

- a) Označuje místo pro parkování obytných vozidel.
- b) Označuje servisní místo pro sanitaci hygienických zařízení obytných automobilů a obytných přívěsů.
- c) Označuje místo pro kempování obytných vozidel a obytných přívěsů.



24070015 Řidič nákladního automobilu:

- a) Musí odbočit vpravo.
- b) Může odbočit vpravo, přitom nesmí ohrozit ani omezit cyklistu jedoucího ve vyhrazeném jízdním pruhu.
- c) Nesmí odbočit vpravo.



24070021 Jak se má zachovat řidič motocyklu ve vyobrazené dopravní situaci?

- a) Zastaví motocykl před zúžením.
- b) Jednostopé vozidlo může zúžením projet.
- c) Musí se s řidičem protijedoucího vozidla domluvit.



.....
24030027 a), 24030028 b), 24070015 b), 24070021 a)

24070016 Řidič motocyklu na nejbližší křižovatce:

- a) Může odbočit vpravo, přitom nesmí ohrozit ani omezit cyklistu jedoucího ve vyhrazeném jízdním pruhu.
- b) Může odbočit vpravo, přičemž mu cyklista jedoucí ve vyhrazeném jízdním pruhu musí dát přednost v jízdě.
- c) Nesmí odbočit vpravo.



24070025 Může se motocyklista zařadit před světelnou křižovatkou do prostoru vyznačeného vodorovnou dopravní značkou?

- a) Může, motocyklista se řadí na křižovatce před ostatní vozidla.
- b) Může, pokud je tam dostatek prostoru.
- c) Nemůže, prostor je vyhrazen pouze cyklistům.



24070011 Vyobrazený směrový sloupek:

- a) Vyznačuje vyústění polní a lesní cesty na pozemní komunikaci.
- b) Používá se pro vyznačení křižovatky silnic nižší třídy.
- c) Označuje okraj pozemní komunikace.

24070012 Jak se zachová řidič v případě, že vyjíždí z komunikace označené vyobrazenými sloupky?

- a) Dá přednost v jízdě vozidlům, přijíždějícím zprava.
- b) Dá přednost v jízdě všem vozidlům, jedoucím po komunikaci, na kterou vyjíždí.
- c) Dá přednost v jízdě vozidlům přijíždějícím zleva.



©Asociace autoškol ČR 2021
Financováno z fondu zábrany škod ČKP

24070016 a), 24070025 c), 24070011 a), 24070012 b)

24070031 Jaký je význam vyobrazené dopravní značky:

- a) Značka přikazuje řidiči dát přednost v jízdě protijedoucímu vozidlu v případě, kdy se protijedoucí vozidla nemohou bezpečně vyhnout.
- b) Značka informuje řidiče o tom, že řidič protijedoucího vozidla smí do následujícího úseku pozemní komunikace vjet pouze v případě, kdy se jeho a protijedoucí vozidlo mohou bezpečně vyhnout.
- c) Značka přikazuje jízdu po křižovatce ve směru šipek na značce zobrazených.



24070035 Do úseku pozemní komunikace za vyobrazenou dopravní značkou:

- a) Je zakázán vjezd jen osobním automobilům.
- b) Je zakázán vjezd všech motorových vozidel s výjimkou motocyklů bez postranního vozíku.
- c) Je zakázán vjezd všem motorovým vozidlům.



24070033 Řidič autobusu:

- a) Nesmí odbočit vpravo.
- b) Musí odbočit vpravo.
- c) Může odbočit vpravo, přitom nesmí ohrozit ani omezit cyklistu jedoucího ve vyhrazeném jízdním pruhu.



24070017 Jak se zachová řidič červeného ve vyobrazené dopravní situaci?

- a) Musí dát přednost všem vozidlům jedoucím po pozemní komunikaci, na kterou vjíždí.
- b) Dává přednost pouze vozidlům přijíždějícím po hlavní pozemní komunikaci.
- c) Má přednost v jízdě.



.....
24070031 b), 24070035 b), 24070033 a), 24070017 a)

24070020 Může řidič motocyklu ve vyobrazené křižovatce pokračovat v přímém směru?

- a) Nemůže, protože by jel do pěší zóny.
- b) Může, protože patří mezi vozidla s výjimkou uvedenou na dopravní značce.



24070026 Může řidič motorového vozidla vjždět do prostoru vyhrazeného jízdního pruhu?

- a) Ano, například pokud je to nutné při objždění překážky, nesmí přitom cyklistu jedoucího v tomto pruhu ohrozit ani omezit.
- b) Ne, do vyhrazeného jízdního pruhu pro cyklisty nesmí vůbec vjždět.
- c) Může, pokud neohrozí cyklistu jedoucího v tomto pruhu.



24070014 Řidič se nesmí otáčet:

- a) Na křižovatce, na které je provoz upraven dopravními značkami.
- b) Na žádné křižovatce.
- c) Na křižovatce, na které je provoz řízen světelnými signály nebo policistou.

24070018 Pokud osoba pohybující se pomocí ručního nebo motorového vozíku pro invalidy nemůže užít chodník:

- a) Musí užít jen levé krajnice nebo levého okraje vozovky, protože má stejné povinnosti jako chodec.
- b) Smí užít pravé krajnice nebo pravého okraje vozovky.
- c) Protože je řidičem vozidla, musí na pozemní komunikaci jezdit vpravo, a pokud tomu nebrání zvláštní okolnosti, při pravém okraji vozovky.

.....
24070020 a), 24070026 a), 24070014 c), 24070018 b)

24070027

Řidič vozidla z výhledu hodlá pokračovat v jízdě v přímém směru. Přitom:

- a) Musí dát znamení o změně směru jízdy vpravo.
- b) Nedává znamení o změně směru jízdy.
- c) Musí dát znamení o změně směru jízdy vlevo.



24070029

Jak se zachovám jako řidič motocyklu z výhledu, pokud jedu při pravém okraji vozovky:

- a) Pokračuji bez změny v jízdě, mezi zaparkované vozidlo a přerušovanou čáru se vejdu, nemusím tedy dávat znamení o změně směru jízdy.
- b) Dám znamení o změně směru jízdy a s bezpečným odstupem objíždím zaparkovaná vozidla.
- c) Znamení o změně směru jízdy budu dávat pouze v případě, že přejedu přes přerušovanou čáru do protisměru nebo za mnou pojede jiné vozidlo.



24070019

Jakým způsobem lze ukončit platnost zákazových dopravních značek?

- a) Vyústěním polní nebo lesní cesty.
- b) Platnost končí po ujetí 90 m za dopravní značkou.
- c) Nejbližší křižovatkou nebo příslušnou dopravní značkou ukončující zákaz.



24070023

Smí chodec vstupovat na přechod pro chodce nebo na vozovku, přijíždí-li tramvaj?

- a) Nesmí.
- b) Může. Řidič tramvaje mu musí umožnit bezpečné přejetí vozovky.
- c) Může, pokud je tramvaj na tramvajovém pásu.

.....
24070027 b), 24070029 b), 24070019 c), 24070023 a)

24070028 Řidič vozidla z výhledu hodlá pokračovat v jízdě vlevo. Přitom:

- a) Nemusí dát přednost protijedoucímu vozidlu, neboť pokračuje po hlavní pozemní komunikaci.
- b) Musí dát přednost protijedoucímu vozidlu.
- c) Nemusí dát přednost protijedoucímu vozidlu, protože odbočuje vlevo.



24070034 Řidič vozidla z výhledu ve vyobrazené křižovatce s přerušovaně svítícím žlutým světlem hodlá pokračovat v jízdě vlevo. Přitom:

- a) Nemusí dát přednost protijedoucímu vozidlu, protože odbočuje vlevo.
- b) Nemusí dát přednost protijedoucímu vozidlu, neboť pokračuje po hlavní pozemní komunikaci a nejedná se o křižovatku řízenou světelnými signály.
- c) Musí dát přednost protijedoucímu vozidlu.



24070022 Jakou maximální rychlostí může jet v obci řidič po pozemní komunikaci označené touto dopravní značkou, není-li stanoveno jinak?

- a) 110 km/h
- b) 80 km/h
- c) 130 km/h



.....
24070028 a), 24070034 b), 24070022 b)

24070039 Může řidič jedoucí v přímém směru pokračovat za křižovatkou rychlostí 35 km/h?

- a) Ano.
- b) Ne.
- c) Pouze v noci.



24070038 Jakým směrem může jet řidič nákladního vozidla o celkové hmotnosti nad 3500 kg, pokud není zaregistrován v systému elektronického mýtného?

- a) Smí pokračovat po silnici č. 118 směr Budyně nad Ohří.
- b) Smí odbočit vlevo a pokračovat dále po dálnici směr Chomutov.
- c) Nesmí pokračovat v žádném směru vyznačeném na návěsti.



24020001 Řidič vozidla jedoucí za jiným vozidlem:

- a) Nemusí ponechávat za ním dostatečnou bezpečnostní vzdálenost, pokud to nevyžaduje dopravní situace.
- b) Musí ponechat za ním bezpečnou vzdálenost, aby mohl zastavit vozidlo v případě náhlého snížení rychlosti nebo náhlého zastavení vozidla, které jede před ním.
- c) Musí ponechat za ním dostatečnou bezpečnostní vzdálenost pouze v nepřehledných úsecích pozemní komunikace.

.....
24070039 b), 24070038 a), 24020001 b)

24030005 **Můžete od řidiče motocyklu s označením "L" (žák autoškoly), který je v dalším vozidle doprovázen učitelem, očekávat, že se při řízení dopustí nějaké chyby, například nedání přednosti v jízdě?**

- a) Ano, chybu řidiče (žáka autoškoly) nelze vyloučit a v rámci defenzivní jízdy je vhodné s ní počítat.
- b) Ne, žák autoškoly jedoucí samostatně dostává pokyny od učitele a chyba je tak vyloučena.
- c) Ne, žák autoškoly zná své povinnosti a můžete se spolehnout, že bude vše dodržovat.



24030018 **Kde může řídit sedmnáctiletý řidič (L17) za doprovodu mentora?**

- a) Ve všech zemích Evropské unie.
- b) V České republice.
- c) V České republice s výjimkou dálnic.



24030019 **Jaký trest hrozí sedmnáctiletému řidiči (L17), který bude řídit motorové vozidlo skupiny B bez přítomnosti mentora v tomto vozidle?**

- a) Pokuta a zákaz řízení motorových vozidel.
- b) Domluva.
- c) Trest za toto jedná ní zákon nestanovuje.



24030005 a), 24030018 b), 24030019 a)

24030020 Může sedmnáctiletý řidič (L17) řídit s kýmkoliv, kdo splňuje podmínky pro mentory stanovené zákonem?

- a) Ne, může řídit jen v doprovodu mentora, který je zapsán v Evidenční kartě řidiče.
- b) Ano, stačí, že doprovázející osoba splňuje minimální podmínky řidičské praxe.
- c) Ano, pokud doprovázející osoba splňuje podmínky a může to dokázat tím, že je zapsána v Evidenční kartě jiného řidiče L17.



24030021 Může sedmnáctiletý řidič (L17) řídit v přítomnosti mentora, který je pod vlivem alkoholu?

- a) Ano, pokud je hladina alkoholu v krvi Mentora nižší než 0,5 promile.
- b) Ne.
- c) Ano.



24030029 Za jakých podmínek může sedmnáctiletý řidič (L17) po složení závěrečné zkoušky žadatele o řidičské oprávnění skupiny B řídit motorové vozidlo?

- a) Může řídit motorové vozidlo skupiny B samostatně, ale pouze v obci.
- b) Po úspěšném složení závěrečné zkoušky může již řídit motorové vozidlo skupiny B samostatně.
- c) Do věku 18 let může řídit pouze pod dohledem mentora, který je zapsán v jeho evidenční kartě řidiče.



.....
24030020 a), 24030021 b), 24030029 c)

24030030 Jaké podmínky musí splňovat mentor sedmnáctiletého řidiče (L17)?

- a) Musí být držitelem řidičského oprávnění skupiny B minimálně 10 let, posledních 5 let toto oprávnění nepozbyl (neměl zákaz řízení), nemá zadržovaný řidičský průkaz, nemá v bodovém hodnocení řidiče zaznamenán žádný bod, souhlasí se zápisem jako mentor do evidenční karty sedmnáctiletého řidiče (L17).
- b) Musí být držitelem řidičského oprávnění minimálně 5 let, může mít v bodovém hodnocení řidiče zaznamenány maximálně 2 body.
- c) Nemusí splňovat žádné zvláštní podmínky, pouze musí souhlasit se zápisem sebe, jako mentora, do evidenční karty sedmnáctiletého řidiče (L17).



24030031 Jaký je maximální počet mentorů, kteří mohou být zapsáni v Evidenční kartě sedmnáctiletého řidiče (L17)?

- a) 1
- b) 4
- c) 3



24030032 Kde musí sedět mentor při doprovodu sedmnáctiletého řidiče (L17)?

- a) Na zadním sedadle spolujezdce.
- b) Na sedadle spolujezdce vedle řidiče.
- c) Nemusí být ve vozidle přítomen, může jet v doprovodném vozidle.



24030030 a), 24030031 b), 24030032 b)

24030033 Kdy nesmí mentor vykonávat doprovod sedmnáctiletého řidiče (L17)?

- a) Nemá stanoveny žádné podmínky.
- b) Bezprostředně po požití alkoholického nápoje nebo v takové době po požití alkoholického nápoje, kdy by mohl být ještě pod vlivem alkoholu.
- c) Když se dopustí přestupku, který je zařazen do bodového hodnocení.



24030034 Je mentor při doprovodu sedmnáctiletého řidiče (L17) povinen prokázat svoji totožnost policistovi, vojenskému policistovi nebo celníkovi?

- a) Ne.
- b) Ano.



24030035 Je mentor při doprovodu sedmnáctiletého řidiče (L17) povinen podrobit se na výzvu policisty vyšetření, zda není pod vlivem alkoholu či jiné návykové látky?

- a) Ne.
- b) Ano.
- c) Ano, ale jen pokud řidič spáchá přestupek.



.....
24030033 b), 24030034 b), 24030035 b)

24030003 Je řidič motorového vozidla povinen dodržet bezpečný boční odstup (1,5 m resp. 1 m) při míjení cyklisty, který se pohybuje stejným směrem ve vyhrazeném jízdním pruhu?

- a) Nemusí, dodržení předepsaného odstupu je povinností cyklisty.
- b) Musí vždy.
- c) Nemusí, jelikož v takovém případě se nejedná o předjíždění.



24070001 Musí řidič vozidla z výhledu sledovat i situaci vpravo, v místě podélně zaparkovaných vozidel?

<https://etesty2.mdcz.cz/Content/ImageQuestion/3859>

- a) Ano, řidič je povinen sledovat situaci v provozu na pozemních komunikacích a předvídat hrozící nebezpečí spočívající mj. i v tom, že některý z parkujících řidičů může při vyjždění z parkovacího místa za ním jedoucí vozidlo přehlédnout.
- b) Nemusí, jede po hlavní komunikaci a řidiči ostatních vozidel mu musí dát přednost v jízdě.
- c) Musí, protože má povinnost umožnit vyjetí řidiči zaparkovaného vozidla.



24070010 Došlo ve vyobrazené dopravní situaci k porušení pravidel silničního provozu?

<https://etesty2.mdcz.cz/Content/ImageQuestion/3877>

- a) Ne, oba řidiči odbočili v souladu s pravidly silničního provozu.
- b) Ano, řidič motocyklu nesměl při odbočování vpravo najíždět do levého jízdního pruhu.
- b) Ano, řidič protijedoucího osobního vozidla při odbočování vlevo byl povinen dát přednost v jízdě řidiči motocyklu.



24030003 c), 24070001 a), 24070010 c)

24070003 Jak se zachoval řidič oranžového vozidla ve vyobrazené dopravní situaci, přijíždějící k železničnímu přejezdu, před kterým je umístěna dopravní značka "Stůj, dej přednost v jízdě!"?

<https://etesty2.mdcz.cz/Content/ImageQuestion/3863>

- Správně odhadl dobu, kdy ještě bylo možné přejet bezpečně železniční přejezd.
- Měl za povinnost zastavit vozidlo před železničním přejezdem, protože mu to přikazovala svíslá dopravní značka.
- Měl za povinnost zastavit vozidlo před železničním přejezdem, protože se jednalo o jednokolejný železniční přejezd.



24070004 Ve vyobrazené dopravní situaci:

<https://etesty2.mdcz.cz/Content/ImageQuestion/3865>

- Chodec nesmí vstoupit na přechod pro chodce do doby, než zastaví vozidla řidiči jedoucí v obou jízdních pruzích v jednom směru.
- Řidič vozidla jedoucí v levém jízdním pruhu, nemusí před přechodem pro chodce zastavit vozidlo, má dostatek času projet aniž by ohrozil nebo neohrozil chodce.
- Řidič vozidla, který jede v levém jízdním pruhu, měl za povinnost zastavit vozidlo před přechodem pro chodce, protože zde zastavili řidiči vozidel jedoucích stejným směrem.



.....
24070003 b), 24070004 c)

24070002 Cyklista starší 10 let ve vyobrazené dopravní situaci:

<https://etesty2.mdcz.cz/Content/ImageQuestion/3861>

- a) Nesmí jet po chodníku, ale smí jet po přechodu pro chodce.
- b) Nesmí jet po chodníku ani po přechodu pro chodce.
- c) Smí přejet po vyznačeném přejezdu pro cyklisty.



24070005 Dodrželi řidiči vozidel odbočující na křižovatce vlevo pravidla provozu?

<https://etesty2.mdcz.cz/Content/ImageQuestion/3867>

- a) Ne, měli se správně vyhybat vlevo.
- b) Ano, oba dali znamení o změně směru jízdy.
- c) Ne, před odbočováním vlevo měli povinnost se zařadit co nejdříve k pravému okraji vozovky.



24070006 Řidič černého vozidla:

<https://etesty2.mdcz.cz/Content/ImageQuestion/3869>

- a) Nemusí dát znamení o změně směru jízdy, protože jede po hlavní pozemní komunikaci.
- b) Musí dát znamení o změně směru jízdy, protože mění směr jízdy doleva.
- c) Musí dát znamení o změně směru jízdy, protože odbočuje na vedlejší pozemní komunikaci.



.....
24070002 b), 24070005 a), 24070006 b)

24070007 Dodržel řidič bílého vozidla pravidla silničního provozu?

<https://etesty2.mdcrcz/Content/ImageQuestion/3871>

- a) Ne, otáčení přes tramvajový pás je zakázáno.
- b) Ne, otáčení na přechodu pro chodce je zakázáno.
- c) Ano, na přechodu pro chodce nebyli chodci, které by ohrozil nebo omezil.



24070008 Řidič vozidla z výhledu na křižovatce:

<https://etesty2.mdcrcz/Content/ImageQuestion/3873>

- a) Má přednost v jízdě před řidičem protijedoucího vozidla.
- b) Musí dát přednost v jízdě řidiči protijedoucího vozidla odbočujícího vlevo.
- c) Musí na takovém místě, odkud má náležitý rozhled, na příkaz svislé dopravní značky zastavit vozidlo.



24070009 Řidič zeleného vozidla v dané dopravní situaci:

<https://etesty2.mdcrcz/Content/ImageQuestion/3875>

- a) Může odbočit pouze v případě, že odbočuje do místa vyznačeného červenými směrovými sloupky.
- b) Může odbočit vlevo, nesmí však ohrozit řidiče protijedoucího vozidla.
- c) Nesmí v tomto místě odbočit vlevo.



.....
24070007 b), 24070008 a), 24070009 c)

24030036 Zachoval se řidič vozidla z výhledu při zařazování do průběžného jízdního pruhu správně?

<https://etesty2.mdcr.cz/Content/ImageQuestion/3839>

- a) Ne, na konci přípojovacího pruhu měl zastavit a zařadit se až poté, kdy se přesvědčil o tom, že situace v průběžném jízdním pruhu mu to umožňuje.
- b) Ano, využil celou délku přípojovacího pruhu, aby dosáhl rychlosti vozidel v průběžném jízdním pruhu a zařadil se do něj.
- c) Ne, do průběžného jízdního pruhu měl najet okamžitě na začátku přípojovacího pruhu, protože v průběžném jízdním pruhu nejelo žádné vozidlo.



24030037 Ve vyobrazené dopravní situaci řidič vozidla jedoucí v průběžném jízdním pruhu:

<https://etesty2.mdcr.cz/Content/ImageQuestion/3841>

- a) Způsobil nebezpečnou dopravní situaci, tím, že zastavil v průběžném jízdním pruhu.
- b) Správně zastavil, aby umožnil zařazení vozidla z přípojovacího pruhu.
- c) Měl umožnit najetí vozidla z přípojovacího pruhu najetím do levého jízdního pruhu.



.....
24030036 b), 24030037 a)

24030038 Ve vyobrazené dopravní situaci řidič protijedoucího vozidla:

<https://etesty2.mdcz.cz/Content/ImageQuestion/3843>

- a) Nesměl v daném místě předjíždět.
- b) Předjížděl bezpečně, dostatečná šířka vozovky umožňovala, aby se protijedoucí vozidla vyhnula.
- c) Při předjíždění ohrozil řidiče vozidla z výhledu.



24030039 Dodržel řidič vozidla z výhledu v ukázce dostatečnou bezpečnou vzdálenost od před ním jedoucího vozidla?

<https://etesty2.mdcz.cz/Content/ImageQuestion/3845>

- a) Ano, vzdálenost mezi vozidly byla minimálně 1 sekundu.
- b) Ano, vzdálenost mezi vozidly byla minimálně 2 sekundy.
- c) Ne, bezpečná vzdálenost byla nedostatečná.



.....
24030038 c), 24030039 b)

24030040 Jak se zachováte jako řidič vozidla z výhledu v ukázce v úseku s vyznačenými šipkami na vozovce?

<https://etesty2.mdcz.cz/Content/ImageQuestion/3847>

- a) Pojedu tak, aby vzdálenost od vozidla přede mnou odpovídala minimálně vzdálenosti dvou celých šipek na vozovce.
- b) Zvětším vzdálenost, tak abych viděl minimálně 3 šipky na vozovce mezi mnou a vozidlem přede mnou.
- c) Zpomalím, šipky jsou optickou brzdou a upozorňují mě na rizikové místo na komunikaci.



24030041 Jak se jako řidič vozidla z výhledu zachovám ve vyobrazené dopravní situaci s ohledem na zásady bezpečné a defenzivní jízdy?

<https://etesty2.mdcz.cz/Content/ImageQuestion/3849>

- a) Budu pokračovat stejnou rychlostí, situace v levém jízdním pruhu se mě netýká.
- b) Zpomalím, abych vytvořil větší prostor pro řešení rizikové situace.
- c) Zvýším rychlost jízdy tak, abych se vyhnul rizikové situaci v levém jízdním pruhu.



.....
24030040 a), 24030041 b)

24030042 K jakému porušení silničních pravidel ve vyobrazené dopravní situaci došlo?

<https://etesty2.mdcz.cz/Content/ImageQuestion/3851>

- a) Řidič autobusu nedal přednost v jízdě řidiči vozidla z výhledu, který vjížděl na kruhový objezd.
- b) Řidič modrého vozidla, které vjíždělo na kruhový objezd, nedal přednost v jízdě řidiči vozidla z výhledu, který jel po kruhovém objezdu.
- c) Řidič vozidla z výhledu nesměl zastavit před přechodem pro chodce při výjezdu z kruhového objezdu.



24030043 K jakému porušení silničních pravidel došlo ve vyobrazené dopravní situaci?

<https://etesty2.mdcz.cz/Content/ImageQuestion/3853>

- a) Řidič vozidla z výhledu ohrozil chodkyni, která přecházela po přechodu pro chodce.
- b) Chodkyně se před vstupem do vozovky nerozhlédla, nevěnovala se situaci v provozu.
- c) Řidič vozidla z výhledu zastavil před přechodem pro chodce v místě výjezdu z kruhového objezdu.



.....
24030042 b), 24030043 b)

24030044 Musí ve vyobrazené dopravní situaci řidič vozidla z výhledu zastavit vozidlo před jednokolejným železničním přejezdem?

<https://etesty2.mdcrcz/Content/ImageQuestion/3855>

- a) Nemusí, protože právě přejel vlak. Jedná se o jednokolejný přejezd, nemůže tedy ihned po něm jet vlak další.
- b) Musí, protože mu to přikazuje svíslá dopravní značka.
- c) Musí, protože řidič má povinnost zastavit před každým železničním přejezdem.



24030045 Jako řidič vozidla z výhledu:

<https://etesty2.mdcrcz/Content/ImageQuestion/3857>

- a) Na hlavní pozemní komunikaci nemusím reagovat na hrozící nebezpečí střetu, ostatní účastníci jsou povinni odvrátit hrozící nebezpečí střetu, které jsem nezavinil.
- b) Na hlavní pozemní komunikaci nemám povinnost sledovat ostatní účastníky provozu.
- c) Mám povinnost sledovat situaci v provozu, abych v případě nutnosti mohl včasnou reakcí odvrátit hrozící nebezpečí střetu i přesto, že jsem na hlavní pozemní komunikaci.



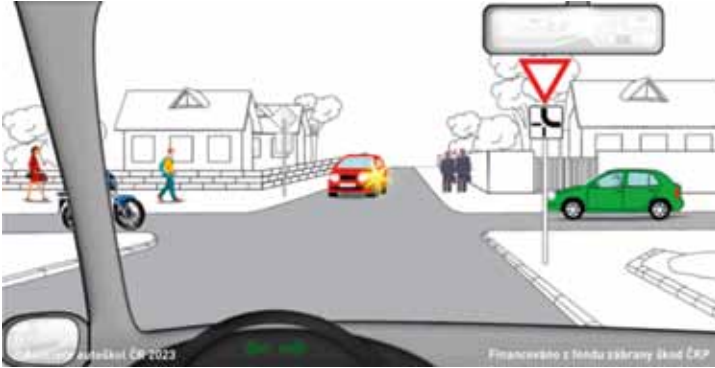
24030001 Co se rozumí pod pojmem „defenzivní jízda“?

- a) Takový způsob jízdy, kdy se snažíme splynout se silničním provozem, k ostatním účastníkům silničního provozu se chováme ohleduplně, ukázněně a předvídáme i jejich možné chyby.
- b) Takový způsob jízdy, ve kterém jde hlavně o to, abychom byli všude co nejrychleji a udělali co nejméně chyb.
- c) Takový způsob jízdy, ve kterém soutěžíme s ostatními účastníky provozu o to, kdo je lepší řidič.

.....
24030044 b), 24030045 c), 24030001 a)

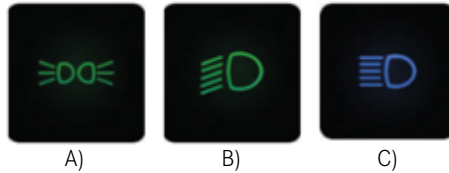
24030004 Jakým způsobem může ovlivnit výhled z vozidla sloupek mezi čelním sklem a bočním oknem?

- a) Taková situace by neměla nastat, konstrukce karoserie je výrobcem uzpůsobena tak, aby měl řidič v každém okamžiku neomezený výhled před vozidlo. Výhled tedy není nikdy omezen.
- b) Řidič nemůže takovou situaci vůbec ovlivnit.
- c) Takové omezení výhledu je dané konstrukcí vozidla, řidič by měl zohlednit prostor omezeného výhledu a kontrolovat situaci vyhlédnutím za sloupek, jen tak dokáže omezený výhled eliminovat.




24030009 Který z uvedených sdělovačů informuje řidiče motorového vozidla o rozsvícených obrysových světlech?

- a)
- b)
- c)




24030010 Který z uvedených sdělovačů informuje řidiče motorového vozidla o rozsvícených potkávacích světlech?

- a)
- b)
- c)



24030011 Který z uvedených sdělovačů informuje řidiče motorového vozidla o rozsvícených dálkových světlech?


- a)
- b)
- c)



24030004 c), 24030009 a), 24030010 a), 24030011 a)

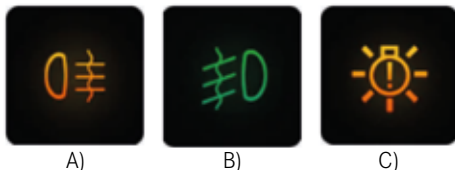
24030012 Který z uvedených sdělovačů informuje řidiče motorového vozidla o rozsvícených předních mlhových světlech?

- a)
- b)
- c)




24030013 Který z uvedených sdělovačů informuje řidiče motorového vozidla o rozsvícených zadních mlhových světlech?

- a)
- b)
- c)



24030014 Který z uvedených sdělovačů informuje řidiče motorového vozidla o závadě brzdového systému?

- a)
- b)
- c)



24070024 Mezi prvky aktivní bezpečnosti při jízdě na motocyklu patří:

- a) Přilba, ochranná bunda, rukavice, ochranné kalhoty a pevná kotníková obuv.
- b) Kvalitní pneumatiky s dostatečným vzorkem dezénu, asistenční systémy, čistota světel a zpětných zrcátek.

24030002 Jaká je maximální povolená konstrukční rychlost elektrokoloběžky, kterou je možno řídit bez řidičského oprávnění?

- a) 45 km/h
- b) 25 km/h
- c) 15 km/h



24030012 a), 24030013 a), 24030014 a), 24070024 b), 24030002 b)

24030006 Kde si řidič může požádat o vydání karty řidiče sloužící pro zaznamenávání doby řízení, bezpečnostních přestávek a doby odpočinku?

- a) U svého zaměstnavatele.
- b) Na kterémkoliv úřadě obce s rozšířenou působností.
- c) Na Ministerstvu dopravy.



©Asociace autotrážek ČR 2023

Financováno z fondu zábrany úklad ČKP

24030007 Největší povolené rozměry vozidel a jízdních souprav:

- a) Se vztahují k vozidlům a jízdním soupravám včetně nákladu.
- b) Se vztahují jen k vozidlům a jízdním soupravám bez nákladu. Při jejich překročení se musí označit červeným praporekem o rozměrech 300 x 300mm.
- c) Se vztahují jen k vozidlům a jízdním soupravám. Náklad může překročit nejvyšší povolené rozměry vzadu o maximálně 1 m.



©Asociace autotrážek ČR 2023

Financováno z fondu zábrany úklad ČKP

24030015 Řidič vozidla vybaveného zvláštním výstražným světlem oranžové barvy smí tohoto světla užívat:

- a) Jen mimo veřejné komunikace.
- b) Jen tehdy, mohla-li by být jeho jízdou nebo pracovní činností ohrožena bezpečnost provozu na pozemních komunikacích.
- c) Jen za jízdy, pokud by jízdou omezoval ostatní účastníky silničního provozu.



©Asociace autotrážek ČR 2023

Financováno z fondu zábrany úklad ČKP

24030006 b), 24030007 a), 24030015 b)

24030016 Kde a kdy nejpozději musí řidič požádat o obnovu karty řidiče?

- Žádost může podat kterémukoliv obecnímu úřadu obce s rozšířenou působností, nejpozději 15 pracovních dnů před skončením platnosti karty.
- Žádost musí podat obecnímu úřadu obce s rozšířenou působností, v jejímž obvodu má bydliště, nejpozději 7 pracovních dnů před skončením platnosti karty.
- Žádost musí podat ministerstvu dopravy, nejpozději 7 kalendářních dnů před skončením platnosti karty.



©Asociace autoklubů ČR 2023

Financováno z fondu zábrany úklad ČKP

24030017 Užitím karty řidiče, která byla vydána jiné osobě, nebo užitím karty řidiče, která byla nahlášena jako ztracená nebo odcizená, spáchal řidič přinejmenším přestupek, za který mu může být:

- Pouze uložena kauce.
- Pouze uložena pokuta.
- Uložena pokuta a zákaz výkonu činnosti řidiče velkého vozidla.



©Asociace autoklubů ČR 2023

Financováno z fondu zábrany úklad ČKP

24030016 a), 24030017 c)